

MARINHA DO BRASIL
DIRETORIA DE ENSINO DA MARINHA

*(CONCURSO DE ADMISSÃO AO CURSO DE
FORMAÇÃO DE OFICIAIS AUXILIARES DA ARMADA
E DE FUZILEIROS NAVAIS / CA-AA-AFN/2016)*

**NÃO ESTÁ AUTORIZADA A UTILIZAÇÃO DE
MATERIAL EXTRA**

QUADRO AUXILIAR DA ARMADA
(candidatos oriundos do CPA)

Leia o texto a seguir para responder às questões de 01 a 08.

A memória cria a literatura, e a literatura cria a memória. Com essa ideia podemos nos situar na relação entre essas funções que, juntas, inventam historicamente o lugar onde ainda pode habitar a inarquivável alma humana.

A memória sempre foi uma grande questão teórica e prática. A história da memória corresponde a "arte da memória" que se perdeu diante da luta do princípio do progresso da ciência moderna contra a tradição. [...]

Não podemos deixar de nos colocar a pergunta crucial sobre o lugar da natural memória humana no tempo do arquivo artificial, do armazenamento de dados no mundo digital. O conhecimento que dava base à ideia de subjetividade, nome moderno da alma, sempre dependeu de mnemotécnicas. Adquirir conhecimento sempre implicou memorizá-lo. Hoje, preocupados em "emitir" ansiosamente qualquer informação por meio da internet, sobretudo em redes sociais, não é absurda a impressão de que não se quer mais adquirir memória, mas livrar-se dela.

Que a história da memória esteja ligada a esforços da tradição ocultista transfigurados pela ciência moderna sinaliza para o abandono do tema da alma em nome das vantagens das tecnologias, cujos resultados mais diretos quanto a uma utilização pragmática da memória, tal como a vemos hoje, sempre encantou aqueles que, loucos por arquivos, museus, computadores, parecem ter pressa de viver. Quem tem pressa de viver quer os dados, não a experiência do tempo que se encontra, por exemplo, em um livro. Quem tem pressa quer o arquivo, não o livro.

[...]

O acontecimento que é a literatura tem lugar na experiência individual e se aniquila no encontro com o ar viciado da globalização onde o particular é perdido, assim como é perdido o universal no qual o particular poderia se reconhecer. Ali, onde ninguém mais pode ser, a literatura dá lugar a quem escreve e lê, por recriar a ficção de si - narrador e personagens - na função poética sempre reinventada entre o eu e o tempo. Por isso, a literatura hoje é transfiguração da vida em ficção, e da ficção em vida. A ficção é a verdade mais íntima da vida, do texto em que o protagonismo depende do gesto de recriar-se.

Prova : Amarela
Profissão : QUADRO AUXILIAR DA ARMADA (CANDIDATOS ORIUNDOS DO CORPO DE PRAÇAS DA ARMADA-CPA)
Concurso : AA-AFN/16

[...]

Mas a literatura do testemunho expõe a verdade de toda a literatura: quem escreve o faz por ser testemunha do seu tempo. Por saber que sobreviver, assim como viver, requer a presença atenta do leitor, alguém a quem se conta alguma coisa na qual não se pode acreditar.

O escritor é cada vez mais aquele que encarna uma tarefa que se tornou histórica, a de ir em busca do tempo perdido, de uma memória que, escapando ao arquivo, é anarquívica. [...]

A literatura é ainda a arte da memória quando não se trata mais de produzir arquivos. A literatura não é museu, é experiência da memória viva. Livros revelam o anarquívico desejo de memória, mãe da esquecida arte de viver que ainda é tempo de recuperar.

TIBURI, Márcia. *O papel da memória e da literatura na era digital*. Disponível em <http://zh.clicrbs.com.br> - com adaptações.

1) Analise as afirmativas abaixo.

- I - Em "A memória sempre foi uma grande questão[...]." (2º§) e "O conhecimento que dava base[...]." (3º§), as formas verbais destacadas expressam ações concluídas no passado.
- II - A forma verbal destacada em "Que a história da memória esteja ligada a esforços[...]." (4º§) expressa uma ação presente tida como certa, verossímil.
- III- Os pronomes destacados em "[...] ansiosamente qualquer informação por meio da internet[...]." (3º§) e "[...] a quem se conta alguma coisa[...]." (6º§) são variáveis e admitem, portanto, a flexão no plural.
- IV - Os termos destacados em "[...] a experiência do tempo que se encontra, [...]." (4º§) e "Adquirir conhecimento sempre implicou memorizá-lo." (3º§) pertencem à mesma categoria gramatical e fazem referência a termos anteriormente mencionados.

Assinale a opção correta.

- (A) Apenas as afirmativas I, III e IV são verdadeiras.
(B) Apenas as afirmativas I, II e III são verdadeiras.
(C) Apenas as afirmativas III e IV são verdadeiras.
(D) Apenas as afirmativas I e III são verdadeiras.
(E) Apenas a afirmativa I é verdadeira.

Prova : Amarela
Profissão : QUADRO AUXILIAR DA ARMADA (CANDIDATOS ORIUNDOS DO CORPO DE PRAÇAS DA ARMADA-CPA)
Concurso : AA-AFN/16

- 2) Tendo em vista a norma padrão, assinale a opção na qual o pronome em destaque pode ser colocado corretamente em outra posição com relação ao verbo também destacado.
- (A) Este é o lugar onde se pode habitar a inarquivável alma humana.
 - (B) A impressão de que não se quer mais adquirir memória.
 - (C) Alguém a quem se conta alguma coisa na qual não se pode acreditar.
 - (D) Por isso, a memória se iria transformando ao longo do tempo.
 - (E) Caber-lhe-ia mostrar que a literatura tem lugar na experiência individual.
- 3) Em "O conhecimento que dava base à ideia de subjetividade [...]." (3º§), o termo destacado deixou de ser acentuado com a vigência do Acordo Ortográfico. Em que opção isso também ocorre?
- (A) A literatura constroi a ficção a partir da vida.
 - (B) É preciso por em prática alguns preceitos relativos à memória.
 - (C) Memória e literatura tem sido relacionadas ao longo do tempo.
 - (D) Quando perguntei, ele não pode responder, pois estava ocupado.
 - (E) A literatura recria a beleza e a feiura captadas do real.
- 4) Em que opção o termo destacado foi corretamente empregado?
- (A) Daqui há pouco ninguém vai querer mais adquirir memória.
 - (B) Sem mais nem porque, a ciência moderna sinaliza o abandono do tema da alma.
 - (C) A literatura não é um museu tampouco um lugar onde se produz arquivo.
 - (D) escritor é aquele que encarna uma tarefa histórica afim de buscar o tempo perdido.
 - (E) A ficção é a verdade mais íntima a cerca da vida, do texto em que o protagonista depende para recriar-se.

Prova : Amarela

Concurso : AA-AFN/16

Profissão : QUADRO AUXILIAR DA ARMADA (CANDIDATOS ORIUNDOS DO CORPO DE PRAÇAS DA ARMADA-CPA)

- 5) Em que opção a regência do termo destacado apresenta um desvio da norma padrão da língua?
- (A) "Adquirir conhecimento sempre implicou memorizá-lo." (3°S)
 - (B) "A história da memória corresponde a arte[...]." (2°S)
 - (C) "[...] alguém a quem se conta alguma coisa[...]." (6°S)
 - (D) "[...] história da memória esteja ligada a esforços [...]." (4°S)
 - (E) "[...] conta alguma coisa na qual não se pode acreditar." (6°S)
- 6) No 3°S, "emitir" aparece entre aspas pelo mesmo motivo que na seguinte opção
- (A) Apenas as pessoas "loucas" valorizam a memória resgatada e disseminada pela literatura.
 - (B) Através da literatura, escritor e leitor abandonam o "nonsense" engendrado pelo arquivo artificial.
 - (C) Nunca havia pensado que o leitor e o escritor mantêm o papel "anarquívico" da memória humana.
 - (D) Quem "curte" literatura se encanta quando percebe que ela é resistente à tecnologia.
 - (E) Alguns julgam que abandonar a memória humana é deitar-se eternamente em "berço esplêndido".
- 7) Em "O escritor é cada vez mais aquele que encarna uma tarefa que se tornou histórica, a de ir em busca do tempo perdido, de uma memória que, escapando ao arquivo, é anarquívica." (7°S) , infere-se que essa memória
- (A) ultrapassa o tempo para se manter arquivada no tempo perdido do escritor.
 - (B) pertence apenas ao escritor, pois ele encarnou uma tarefa histórica.
 - (C) resgata o tempo perdido pelo escritor sempre que ele a busca em arquivos.
 - (D) é histórica porque o escritor vai em busca dela em virtude do tempo perdido.
 - (E) é anárquica porque resgata o espaço que atualmente é mais ocupado pela memória digital.

Prova : Amarela
Profissão : QUADRO AUXILIAR DA ARMADA (CANDIDATOS ORIUNDOS DO CORPO DE PRAÇAS DA ARMADA-CPA)

Concurso : AA-AFN/16

- 8) Em "A literatura não é museu, é experiência da memória viva." (8ºS), infere-se que o museu
- (A) busca sempre destruir a memória viva.
 - (B) é o mantenedor da memória cristalizada.
 - (C) opõe-se, verdadeiramente, à memória viva.
 - (D) tornou-se incapaz de acompanhar a memória viva.
 - (E) precede, historicamente, a memória cristalizada.
- 9) Um motorista avista um obstáculo e freia seu carro. Após a frenagem, o carro percorre 'x' metros no 1º segundo, $\frac{x}{2}$ m no segundo seguinte, $\frac{x}{4}$ m no 3º, e assim sucessivamente, até o 8º segundo, após o qual ele para. Se o obstáculo estava a 135m do carro e $x = 64$, a que distância do obstáculo o carro parou?
- (A) 16m
 - (B) 15m
 - (C) 14m
 - (D) 7,5m
 - (E) 5 m
- 10) Considere o paralelepípedo reto retângulo de bases ABCD e EFGH, sendo $AB = 6\text{cm}$ e $AD = AE = 4\text{cm}$. Considere também um cubo em que qualquer uma de suas faces tem 9cm^2 de área. A diferença entre os volumes desses sólidos é
- (A) 37
 - (B) 42
 - (C) 49
 - (D) 54
 - (E) 69

11) Simplificando a expressão $\frac{a^2 \cdot \cos 180^\circ - (a-b)^2 \cdot \sin 270^\circ + 2ab \cdot \cos 0^\circ}{b^2 \cdot \sin 90^\circ}$,
ab \neq 0, obtém-se:

- (A) a
- (B) b
- (C) 1
- (D) a - b
- (E) (a + b)²

12) Dados os conjuntos $A = \{x \in \mathbb{R} | -3 < x \leq 5\}$ e $B = \{x \in \mathbb{R} | 0 \leq x < 3\}$,
determine a soma de todos os inteiros pertencentes ao
conjunto A - B.

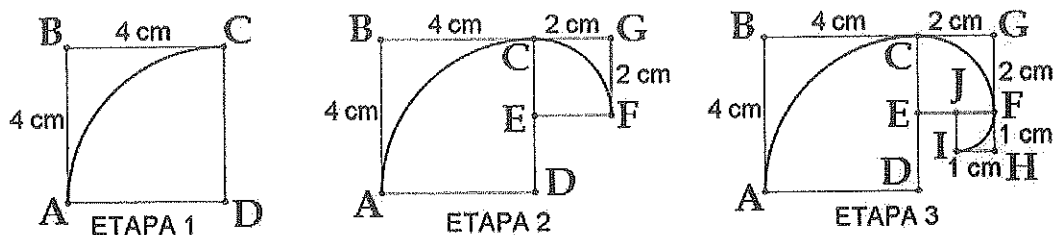
- (A) 3
- (B) 5
- (C) 6
- (D) 8
- (E) 9

13) Um articulista escreveu, em um certo dia, as 20 primeiras
linhas de um artigo. A partir desse dia, ele escreveu, em
cada dia, tantas linhas quanto havia escrito no dia
anterior, mais 5 linhas. O artigo tem 17 páginas, cada uma
com exatamente 25 linhas. Sendo assim, ao terminar de
escrever o artigo, ele trabalhou:

- (A) mais de 5 dias e menos de 8 dias.
- (B) mais de 8 dias e menos de 11 dias.
- (C) mais de 11 dias e menos de 14 dias.
- (D) mais de 14 dias e menos de 18 dias.
- (E) mais de 18 dias e menos de 21 dias.

Prova : Amarela
Profissão: QUADRO AUXILIAR DA ARMADA (CANDIDATOS ORIUNDOS DO
CORPO DE PRAÇAS DA ARMADA-CPA) Concurso : AA-AFN/16

14) Observe as etapas a seguir.

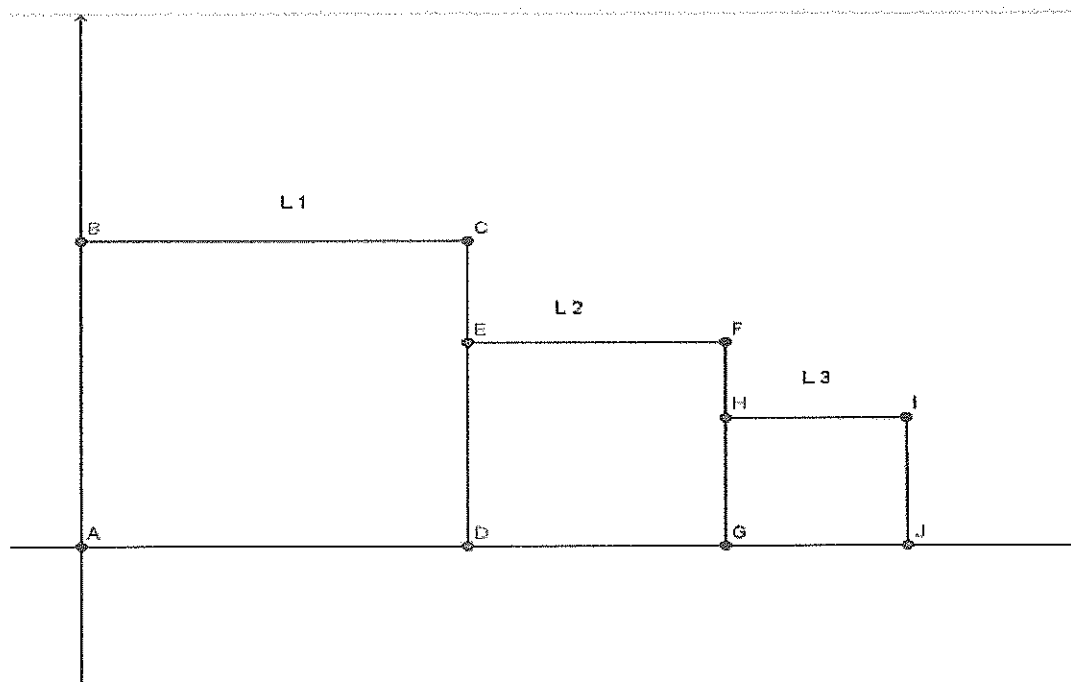


A etapa 1 exibe o quadrado ABCD de lado 4 e o arco de circunferência AC, com centro em D. Na etapa 2, constrói-se o quadrado CEFG, com lado CE = 2cm, sobre CD e arco de circunferência CF, com centro em E. Para a etapa 3, acrescenta-se, à etapa 2, o quadrado FHIJ, com lado FJ = 1 cm sobre EF e arco FI com centro em J. Continuando a construção de novas etapas, infinitamente, e mantendo-se o mesmo padrão das etapas 1, 2 e 3, os arcos desenham uma falsa espiral. Qual o comprimento, em cm, dessa falsa espiral?

- (A) π
- (B) 2π
- (C) 3π
- (D) 4π
- (E) 5π

Prova : Amarela Concurso : AA-AFN/16
 Profissão : QUADRO AUXILIAR DA ARMADA (CANDIDATOS ORIUNDOS DO
 CORPO DE PRAÇAS DA ARMADA-CPA)

15) Observe a figura abaixo.



Na figura acima, estão representados três quadrados L1, L2 e L3 no plano cartesiano. O quadrado L1 tem vértices A(0,0); B(0,6); C(6,6) e D(6,0). O quadrado L2 tem vértices D(6,0); E(6,4); F(10,4) e G(10,0). O quadrado L3 (vértices GHIJ) tem o vértice H sobre o lado FG do L2, o vértice I em condição de alinhamento com os pontos C e F, e o vértice J pertencente ao eixo horizontal. O lado do quadrado L3, em unidades de comprimento, mede

- (A) $\frac{14}{5}$
- (B) $\frac{12}{5}$
- (C) $\frac{15}{4}$
- (D) $\frac{7}{3}$
- (E) $\frac{8}{3}$

Prova : Amarela

Concurso : AA-AFN/16

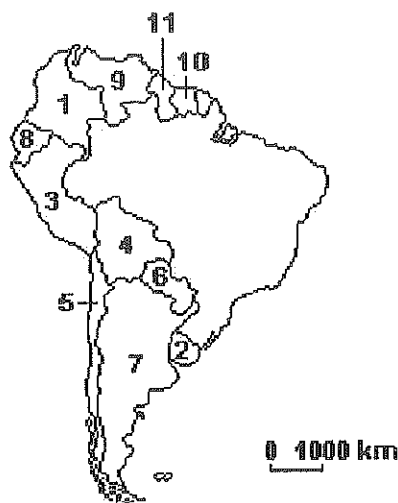
Profissão: QUADRO AUXILIAR DA ARMADA (CANDIDATOS ORIUNDOS DO CORPO DE PRAÇAS DA ARMADA-CPA)

16) A tripulação completa de um avião para um voo internacional é composta por 13 pessoas: 2 pilotos, 2 engenheiros, 2 mecânicos, 4 aeromoças e 3 comissários de bordo. O responsável pela empresa escalará uma equipe para um desses voos e tem a sua disposição 4 pilotos, 5 engenheiros, 2 mecânicos, 6 aeromoças e 5 comissários de bordo. Essa empresa poderá escalar a equipe de forma completa de quantos modos?

- (A) 9000
- (B) 8400
- (C) 7200
- (D) 6400
- (E) 5600

Prova : Amarela Concurso : AA-AFN/16
Profissão : QUADRO AUXILIAR DA ARMADA (CANDIDATOS ORIUNDOS DO
CORPO DE PRAÇAS DA ARMADA-CPA)

17) Observe o mapa abaixo.



Almeida, L. M. A. de; RIGOLIN, T.B. Geografia São Paulo, 2005. P.291. série Novo Ensino Médio (adaptado)

Com relação às condições político-econômicas da América do Sul, assinale a opção correta.

- (A) A Argentina, identificada pelo número 7, experimentou elevado crescimento industrial nas últimas décadas, obrigando o Brasil a impor barreiras alfandegárias sobre os produtos do país vizinho com intuito de proteger o setor eletroeletrônico nacional.
- (B) A Bolívia, identificada pelo número 4, vivenciou reformas sociais promovidas pelo presidente Evo Morales que se envolveu em atritos com a elite local e, ao nacionalizar os recursos naturais, gerou polêmicas com países vizinhos, como o Brasil.
- (C) O Equador, identificado pelo número 3, teve sua economia "dolarizada" a partir da ascensão do governo de Rafael Correa, de cunho ideológico à esquerda, que pautou investimentos nas grandes reservas de petróleo e gás disponíveis no território nacional.
- (D) O Chile, identificado pelo número 5, vem se convertendo no país com maior tensão social provocada pela crise econômica do período neoliberal que acentuou a mortalidade infantil, o aumento da desigualdade social e paralisou o sistema educacional.
- (E) A Colômbia, identificada pelo número 9, assinou uma aliança de combate ao narcotráfico com os Estados Unidos por meio da ampliação de bases militares em seu território, fato que permitiu a proximidade estratégica norte-americana da região amazônica.

Prova : Amarela

Concurso : AA-AFN/16

Profissão : QUADRO AUXILIAR DA ARMADA (CANDIDATOS ORIUNDOS DO CORPO DE PRAÇAS DA ARMADA-CPA)

18) A estrutura fundiária brasileira é considerada, por muitos autores, como sendo muito concentrada e parcelada. Nesse sentido, analise as afirmativas a seguir.

- I - No Brasil Colônia, a terra era parte do patrimônio pessoal do rei e obtida por meio de doação. A Lei de Terras, tendo sido criada em um Brasil independente, tornou a terra um bem de domínio público, patrimônio da nação, fato que acabaria concentrando ainda mais as terras no país.
- II - O Brasil entrou no século XX com uma economia calcada no modelo agroexportador e sem alterar a sua estrutura fundiária. O acesso à terra continuou sendo um grande problema para as massas despossuídas da sociedade brasileira, o que agravaria posteriormente os conflitos no campo.
- III- Com a proclamação da República, em 1889, que defendia a autonomia dos Estados, as questões relativas à terra em cada unidade da Federação brasileira passaram para o âmbito dos governos estaduais. Isso contribuiria tanto por fortalecer os chamados "coronéis", donos de vastas propriedades, como por inibir os anseios dos mais pobres.
- IV - Com a Revolução de 1930, a oligarquia rural ficou politicamente enfraquecida, situação que se tornou favorável à organização e à articulação dos movimentos sociais no campo ou para as lutas políticas dos trabalhadores rurais. No entanto, na década de 1960, esses movimentos sociais seriam fortemente rechaçados.

Assinale a opção correta.

- (A) Apenas as afirmativas I e II são verdadeiras.
- (B) Apenas as afirmativas II e III são verdadeiras.
- (C) Apenas as afirmativas III e IV são verdadeiras.
- (D) Apenas as afirmativas I e IV são verdadeiras.
- (E) As afirmativas I, II, III e IV são verdadeiras.

Prova : Amarela
Profissão : QUADRO AUXILIAR DA ARMADA (CANDIDATOS ORIUNDOS DO CORPO DE PRAÇAS DA ARMADA-CPA)
Concurso : AA-AFN/16

19) A ascensão do "modelo asiático" de reprodução capitalista na década de 1980 contrastou com a crise vivenciada pelo "modelo latino-americano" ou "cepalino" no mesmo período. Assim, muitos autores procuraram identificar elementos que explicavam as diferenças dos padrões econômicos entre as duas regiões. Com relação à comparação dos dois padrões de reprodução do capitalismo periférico, assinale a opção INCORRETA.

- (A) De acordo com a base dominante de acumulação, o padrão do Leste asiático estava sustentado na substituição de importações e no mercado doméstico, enquanto o padrão latino-americano pautou-se pela promoção de exportações e voltou-se principalmente para o mercado externo.
- (B) No padrão latino-americano, houve maior intervenção estatal com grandes investimentos em infraestrutura e adoção de medidas protecionistas, já no padrão do Leste asiático, a intervenção estatal era variável, com protecionismos setoriais e baseados na poupança interna.
- (C) No contexto da força de trabalho, o padrão do Leste asiático apresentava mão de obra abundante e relativamente especializada pelo estímulo à educação, enquanto no padrão latino-americano, a mão de obra era farta, muito barata e dotada de grande mobilidade interna.
- (D) No padrão do Leste asiático, a legislação trabalhista era incipiente e de frágil organização sindical, já no padrão latino-americano, havia maior experiência sindical e pressões em defesa dos direitos trabalhistas do que dos seus pares na Ásia Oriental.
- (E) Para o capital transnacional, o padrão latino-americano era vantajoso devido à abundância de matérias primas, mercado interno vasto e incentivos fiscais, já no Leste asiático, a atração estava sustentada na mão de obra disciplinada e relativamente especializada e na presença de ZPEs (Zonas de Plataforma de Exportações).

Prova : Amarela Concurso : AA-AFN/16
 Profissão : QUADRO AUXILIAR DA ARMADA (CANDIDATOS ORIUNDOS DO
 CORPO DE PRAÇAS DA ARMADA-CPA)

20) Leia o texto a seguir.

O relatório de desenvolvimento humano produzido pelas Nações Unidas é um instrumento relevante que ressalta as desigualdades entre os países. Baseado nessa realidade, coloque V (verdadeiro) ou F (falso) nas afirmativas abaixo, assinalando a seguir a opção correta.

- () Embora o Índice de Desenvolvimento Humano (IDH) forneça um quadro mais representativo da situação social das populações, isto é, não esconde as desigualdades existentes nos países, a análise pautada no ponto de vista macroeconômico ainda produz uma visão mais completa da realidade mundial.
- () A regionalização do mundo sustentada pela relação Norte-Sul apresenta um quadro desigual no espaço global, no qual os "países em desenvolvimento" ilustram a presença de grandes contradições internas, enquanto, nos "países desenvolvidos", a ausência das disparidades socioeconômicas dá a tônica da realidade doméstica.
- () Com algumas exceções, os "países em desenvolvimento" apresentaram, por longo período, regimes democráticos pouco consolidados, nos quais o comando das elites, em geral, foi indiferente ao bem-estar social do restante da população. Tal fato contribuiu para o aprofundamento das contradições internas entre as classes sociais.
- () A relação entre o Estado e o capital acabou intensificando as práticas de corrupção no espaço mundial. No entanto, O desvio das funções do governo em benefício aos grandes grupos econômicos nacionais e internacionais é exclusividade do grupo de "países em desenvolvimento".
- () Na Cúpula do Milênio da ONU, realizada em 2000 na cidade de Nova York, os países presentes lançaram propostas ambiciosas de combate à pobreza, tais como: melhorar a saúde materna, promover a igualdade entre os sexos e estabelecer uma Parceria Mundial para o Desenvolvimento, em países da África, da América Latina e da Ásia.

Assinale a opção correta.

- (A) (V) (V) (V) (F) (V)
- (B) (V) (F) (F) (V) (F)
- (C) (V) (F) (V) (F) (V)
- (D) (F) (V) (F) (V) (F)
- (E) (F) (F) (V) (F) (V)

Prova : Amarela
Profissão : QUADRO AUXILIAR DA ARMADA (CANDIDATOS ORIUNDOS DO CORPO DE PRAÇAS DA ARMADA-CPA)

Concurso : AA-AFN/16

21) A construção e as contradições existentes nos espaços que compõem o território dos Estados Unidos da América (EUA) refletem a sua dinâmica política, social e econômica. Isso gerou as bases para que essa nação, num curto espaço de tempo, se tornasse na maior potência econômica do planeta. Com relação à formação histórica dos EUA e suas particularidades físicas, socioeconômicas e políticas, assinale a opção correta.

- (A) A sua Guerra de Independência, ocorrida na segunda metade do século XVIII, foi conduzida pelas classes sociais mais pobres, especialmente pequenos camponeses. Isso acabou gerando condições favoráveis à criação de uma Constituição Federal que priorizasse o desenvolvimento das áreas sociais.
- (B) Duas questões, uma de cunho natural e outra de natureza político-econômica, contribuíram para a ocupação da sua porção oriental. A primeira reside no fato que essa área do território é rica em carvão e ferro e, a segunda, no incentivo de aquisição de terras por preços simbólicos (Homestead Act).
- (C) O *Manufacturing Belt* ou Cinturão Fabril consolidou-se na porção noroeste dessa nação. Os incentivos fiscais, a existência das principais reservas de ferro, carvão e manganês dessa nação, levaram os EUA a concentrar sua principal atividade econômica, no ramo da informática.
- (D) A região conhecida como *Sun Belt* teve grande crescimento econômico nas últimas décadas. A indústria de alta tecnologia representou um setor fundamental nesse sentido, caracterizada por fraca dependência das fontes de matérias primas pesadas e com uma produção final com elevado valor unitário.
- (E) A partir dos anos 1950, a estrutura regional dessa nação sofreu profundo rearranjo. Os novos investimentos promoveram a configuração de concentrações industriais no Norte e Nordeste, especialmente pela mão de obra menos onerosa, leis ambientais mais flexíveis e pouca tradição de sindicatos trabalhistas.

Prova : Amarela
 Profissão : QUADRO AUXILIAR DA ARMADA (CANDIDATOS ORIUNDOS DO CORPO DE PRAÇAS DA ARMADA-CPA)
 Concurso : AA-AFN/16

22) Leia o texto a seguir

"A fábrica é a culminância desse processo. O resultado avançado da valorização do espaço (sua construção como forma-valor) engendrado pela manufatura. E que, assentada na tecnologia de grande escala, vai substituir a concentração acanhada da manufatura pela escala do grande espaço".

(MOREIRA, Ruy. Geografia e práxis - a presença do espaço na teoria e na prática geográficas. São Paulo: Contexto, 2012. p.141).

Tendo em vista a dinâmica da geografia das indústrias e seus reflexos no âmbito espacial e nas relações de trabalho, assinale a opção correta.

- (A) A introdução da maquinaria reforçou a dependência da produção ao trabalho humano e manteve a unicidade do conhecimento de todo o processo produtivo nas mãos dos trabalhadores.
- (B) As indústrias de bens de consumo são as mais concentradas espacialmente, já que se localizam, preferencialmente, nos grandes centros urbanos onde estão as indústrias de bens de capital, principais consumidoras de seus produtos.
- (C) A Segunda Revolução Industrial possibilitou o desabrochar do taylorismo, que implementou a separação entre o trabalho da concepção e o trabalho da execução, ou seja, instituiu a especialização e a rigidez na organização do trabalho.
- (D) O modelo de produção toyotista, embora tenha implementado inovações nas formas de organização produtiva por meio da instituição da economia de escopo e da descentralização em escala nacional e mundial, manteve o arranjo das relações de trabalho herdado do período fordista.
- (E) A Terceira Revolução Industrial introduziu novas formas de organização da produção mais flexíveis. A instituição do Kanban, modelo chinês, procura estabelecer uma sincronia entre a fábrica, seus fornecedores e consumidores, reduzindo drasticamente os estoques.

Prova : Amarela

Concurso : AA-AFN/16

Profissão : QUADRO AUXILIAR DA ARMADA (CANDIDATOS ORIUNDOS DO CORPO DE PRAÇAS DA ARMADA-CPA)

23) Com o crescimento do ambientalismo em escala planetária, estimulado pelo reconhecimento da necessidade premente de defender o que restou da ação antrópica, o Brasil passou a buscar meios para proteger os seus ecossistemas naturais. Isso contribuiu para o surgimento das Áreas ou Unidades de Conservação. Sobre essas Unidades de Conservação é correto afirmar que são áreas

- (A) que se destinam a abrigar grupos sociais que realizam o extrativismo vegetal, mas segundo formas que preservem o meio ambiente, por meio do uso sustentável, conseguindo obter uma renda que lhes garanta um certo nível de vida.
- (B) delimitadas e demarcadas com a finalidade de resguardá-las oficialmente da ação predatória do homem, destacando a manutenção, preservação e restauração da biodiversidade, desenvolvimento da pesquisa científica e da educação ambiental.
- (C) cuja finalidade é a de conservar o meio ambiente para seu aproveitamento econômico racional, dentro de padrões estipulados pelos órgãos ambientais federal e estaduais, respeitando as particularidades naturais, sociais e econômicas de cada localidade.
- (D) que se destinam a conservação do patrimônio genético existente de uma determinada localidade, o qual passa a ser preservado, multiplicado e transferido para outras áreas do planeta, exatamente para se evitar a sua extinção.
- (E) administradas pela iniciativa privada, que ao receberem isenções fiscais do governo federal, se transformaram em patrimônio público da União, após um longo período de exploração econômica por empreendimentos particulares.

Prova : Amarela

Concurso : AA-AFN/16

Profissão : QUADRO AUXILIAR DA ARMADA (CANDIDATOS ORIUNDOS DO CORPO DE PRAÇAS DA ARMADA-CPA)

24) Leia o texto a seguir.

"(...) Recebemos notícias particulares do Rio-da-Prata, que se referem à entrada de tropas Portuguezas em Monte-Video, aos 20 de Janeiro [de 1817] (...)

Não obstante o muito que disseram os jornais sobre o estado de defesa da praça de Monte-Video, forças de Artigas, e hostilidades de Buenos-Ayres: vê-se agora por estas notícias, que as tropas Portuguezas entraram na cidade, quase sem resistência; que Artigas faz unicamente guerra de partidário, como nós sempre julgamos que ele havia de fazer; e que o Governo de Buenos-Ayres se deixou ficar perfeitamente neutral, nesta contenda, como era de esperar".

COSTA, José Hipólito da. Guerra no Rio da Prata. *Correio Brazilliense, ou, Armazém literário*, volume 18. Editora Correio Brazilliense, 1817, p. 441.

É correto afirmar que a notícia do texto acima está inserida no contexto da

- (A) Guerra da Tríplice Aliança.
- (B) Guerra dos Farrapos.
- (C) Guerra de Oribe e Rosas.
- (D) incorporação da Província Cisplatina.
- (E) Guerra de Aguirre.

Prova : Amarela Concurso : AA-AFN/16
Profissão : QUADRO AUXILIAR DA ARMADA (CANDIDATOS ORIUNDOS DO
CORPO DE PRAÇAS DA ARMADA-CPA)

25) Leia o texto a seguir.

"Concidadãos,

Contra a Constituição e contra a integridade da própria Nação, o chefe do Executivo mobilizou o Exército discricionariamente, pô-lo em pé de guerra e despejou-o nos infelizes estados de Santa Catarina e Rio Grande do Sul. Contra quem? Contra o inimigo do exterior, contra estrangeiros? Não. O vice-presidente armou brasileiros contra brasileiros; levantou legiões de supostos patriotas, levando o luto, a desolação e a miséria a todos os ângulos da República (...).

Sentinela do Tesouro Nacional como prometera, o chefe do Executivo perjurou, iludiu a Nação, abrindo com mão sacrílega as arcas do erário público a uma política de suborno e corrupção (...)

Viva a Nação Brasileira! Viva a República! Viva a Constituição!

Capital da República, 6 de setembro de 1893.

Contra-Almirante Custódio José de Melo"

É correto afirmar que o manifesto acima publicado no Jornal do Brasil, está relacionado à

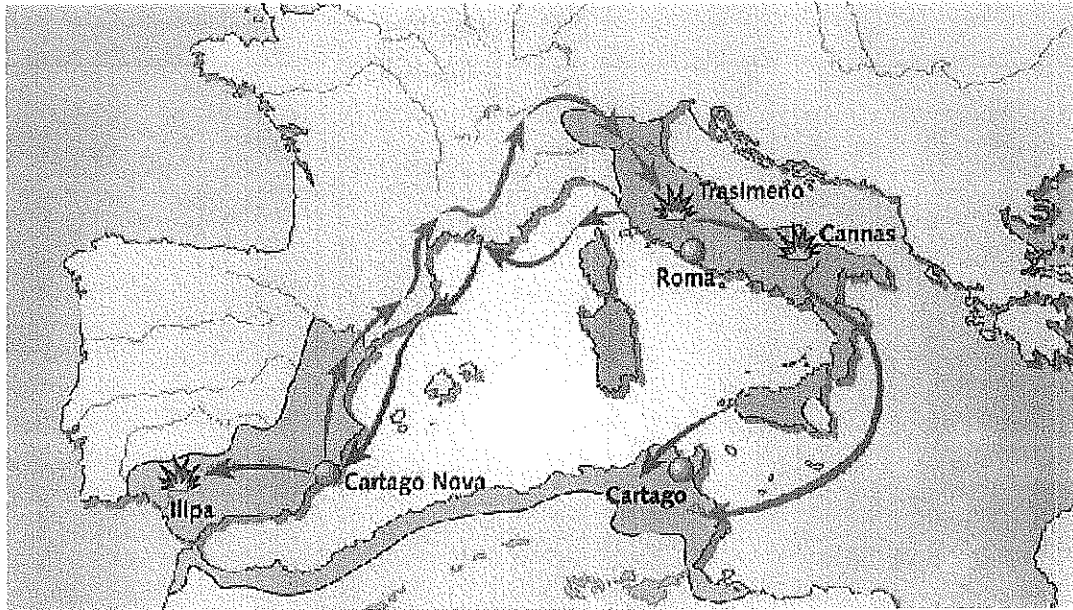
- (A) insurreição de latifundiários e militares à "política do café com leite".
- (B) adesão de militares aos revoltosos da Revolta do Contestado ocorrida no Rio Grande do Sul e em Santa Catarina.
- (C) instabilidade política e social enfrentada pelo governo de Floriano Peixoto.
- (D) mobilização da Coluna Prestes que recebeu o apoio de parte dos oficiais da Marinha do Brasil.
- (E) Aliança Liberal, iniciada no Rio Grande do Sul, que culminou com o gaúcho Getúlio Vargas sendo empossado presidente da República.

Prova : Amarela

Concurso : AA-AFN/16

Profissão : QUADRO AUXILIAR DA ARMADA (CANDIDATOS ORIUNDOS DO CORPO DE PRAÇAS DA ARMADA-CPA)

26) Observe o mapa a seguir.



O mapa acima refere-se a um confronto militar ocorrido durante a fase da República de Roma que ficou conhecido como

- (A) Batalha de Salamina, caracterizada pela disputa sobre o controle do comércio no Mar Negro e posse das colônias gregas, destacando-se a de Bizâncio, que viria a ser sede do Império Romano Oriental.
- (B) Guerras Púnicas, que foram conflitos entre Roma e Cartago, motivados pelo domínio da Sicília e disputa pelo controle do comércio no Mar Mediterrâneo.
- (C) Batalha de Ácio, que deu aos romanos o controle das regiões da Trácia e da Macedônia e o monopólio do comércio no Mediterrâneo e, sobretudo, no Mar Negro, chamado pelos romanos de *Mare Nostrum*.
- (D) Guerras Púnicas, travadas entre Roma e Cartago, e motivadas pelo domínio da Córsega e pela disputa do controle do comércio no Mar Negro.
- (E) Batalha de Salamina, que terminou com a divisão do Império Romano entre os generais romanos e a submissão de Siracusa e todas as suas colônias a Cartago.

Prova : Amarela
Profissão : QUADRO AUXILIAR DA ARMADA (CANDIDATOS ORIUNDOS DO CORPO DE PRAÇAS DA ARMADA-CPA)

Concurso : AA-AFN/16

27) Leia o texto abaixo e responda a questão a seguir.

"No entanto, durante certo tempo, o navio de guerra ficou como a expressão suprema do poderio nacional, não apenas para as potências navais clássicas da Europa mas também para as novas nações em ascensão, como os Estados Unidos da América, o Japão e a Alemanha, cujas vitórias no mar anunciaram pela primeira vez que o equilíbrio das forças ia ser quebrado."

(Albuquerque, Antonio Luiz Porto; Silva, Léo Fonseca e. Fatos da história naval. 2ªed.Rio de Janeiro: Serviço de Documentação da Marinha, 2006.cap.7 p.167)

Nesse contexto, final do século XIX e primeiras décadas do século XX, pode-se afirmar que

- (A) o Japão, após fragorosa derrota para a Rússia, na batalha naval de Tsushima, na qual a maioria de seus navios era de construção britânica, investiu na modernização de sua Marinha de Guerra e, ao iniciar-se a 1ª guerra mundial, já contava com uma poderosa esquadra.
- (B) ocorreu uma gigantesca batalha naval, a maior do mundo até então, a Batalha da Jutlândia. Tal batalha não teve consequências estratégicas importantes e não houve vencedores bem definidos. Ambas as esquadras, a britânica e a alemã, continuaram a ser o que já vinham sendo: esquadras em potencial.
- (C) nos anos que antecederam à Grande Guerra, aconteceu a denominada corrida armamentista. Esse clima de tensão levou à formação de dois blocos antagônicos: a Tríplice Aliança formada pela Alemanha, Rússia e Império Austro-Húngaro e a Tríplice Entente formada pela Inglaterra, França e Itália.
- (D) a Alemanha, em 1914, iniciou uma esmagadora ofensiva contra a França, atravessando o território belga e marchando em direção a Paris. Percebendo que a derrota era inevitável, o governo francês determinou que a esquadra baseada em Toulon fosse afundada evitando com isso que ela caísse em poder da Alemanha.
- (E) a força naval anglo-francesa na campanha dos Dardanelos, embora tenha sofrido a maior perda de meios navais aliados durante a Grande Guerra, conseguiu vencer a resistência turca, desembarcar tropas e ocupar Istambul, atingindo, assim, um dos principais objetivos da campanha.

Prova : Amarela
Profissão : QUADRO AUXILIAR DA ARMADA (CANDIDATOS ORIUNDOS DO CORPO DE PRAÇAS DA ARMADA-CPA)
Concurso : AA-AFN/16

- 28) Jerônimo de Albuquerque é considerado, por alguns historiadores navais, o primeiro comandante brasileiro de uma força naval cuja atuação ocorreu
- (A) na expulsão dos franceses do Maranhão, em 1615, quando, após derrotá-los, foi designado governador das terras conquistadas.
 - (B) no episódio chamado Jornada dos Vassalos, quando comandou uma expedição militar vinda da Europa com a missão de libertar Salvador do domínio holandês.
 - (C) na luta e expulsão dos franceses comandados por Duguay-Trouin, um dos mais famosos corsários da época, que haviam invadido e saqueado o Rio de Janeiro em 1711.
 - (D) no comando da Força Naval organizada pelo governador do Rio de Janeiro, em 1648, para libertar Angola, que estava em poder dos holandeses.
 - (E) no ataque ao forte Francês Coligny, na atual ilha de Villegagnon, durante o Combate das Canoas, momento em que teria aparecido São Sebastião para auxiliar os portugueses.

Prova : Amarela Concurso : AA-AFN/16
Profissão : QUADRO AUXILIAR DA ARMADA (CANDIDATOS ORIUNDOS DO
CORPO DE PRAÇAS DA ARMADA-CPA)

29) Leia o texto a seguir.

"Na verdade, Felipe II tinha grandes motivos para lançar-se numa luta contra os ingleses. Isabel I encorajara as atividades de corso contra o comércio espanhol. Corsários renomados trafegaram pelos mares a serviço da economia inglesa na segunda metade do século XVI.

(...) Tudo isto mostra como a política oficial inglesa era de concorrência aberta e até desleal com relação à Espanha. Para os ingleses, era preciso afastar a Espanha das rotas marítimas, via de escoamento das grandes riquezas coloniais."

(Albuquerque, Antonio Luiz Porto; Silva, Léo Fonseca e. Fatos da história naval. 2ªed. Rio de Janeiro: Serviço de Documentação da Marinha, 2006. cap.4 p.79/80)

Com base no texto acima, assinale a opção correta.

- (A) A chamada Invencível Armada enviada para atacar a Inglaterra, foi derrotada, dando início à ruína do poderio espanhol, que entrou em acelerada decadência econômica.
- (B) Portugal, que estava unido à Inglaterra pela União anglo-ibérica (1580-1640), aproveitando-se da guerra anglo-espanhola, conseguiu sua libertação após receber apoio do rei de Espanha.
- (C) Com a derrota inglesa para a Invencível Armada no conflito com a Espanha, a Holanda, principal concorrente da Inglaterra, assumiu a hegemonia no comércio marítimo mundial.
- (D) Embora a Espanha tenha desembarcado, em solo inglês, as tropas trazidas pela Invencível Armada, não conseguiu manter suas posições devido à derrota nos combates ocorridos no mar.
- (E) A Espanha conquistou Gibraltar, após a Batalha de Málaga e o mantém em seu poder até hoje, apesar dos reiterados protestos da Inglaterra.

Prova : Amarela

Concurso : AA-AFN/16

Profissão : QUADRO AUXILIAR DA ARMADA (CANDIDATOS ORIUNDOS DO CORPO DE PRAÇAS DA ARMADA-CPA)

30) Leia o texto a seguir.

"Aliado privilegiado dos Estados Unidos, em função de nossa posição geoestratégica, especialmente do saliente nordestino, região mais próxima dos teatros africano e europeu, além de fornecedor de matérias-primas, desde o início de 1941, havíamos cedido bases aéreas, em Recife, Natal e Belém, para instalação de pistas de pouso e infraestrutura para facilitar as patrulhas marítimas e a travessia do Atlântico pelas aeronaves norte-americanas." (César, William Carmo. Uma história das guerras navais: o desenvolvimento tecnológico das belonaves e o emprego do poder naval ao longo dos tempos. Rio de Janeiro: Femar, 2013.p.349)

Assinale a opção que identifica corretamente fatos da relação entre Brasil e Estados Unidos antes, durante e no pós-Segunda Guerra Mundial.

- (A) O recebimento, no pós-guerra de material excedente dos Estados Unidos, por meio do Programa de Ajuda Militar contribuiu para estimular o desenvolvimento da construção de navios de guerra no Brasil.
- (B) No ano de 1943, o comandante da 4ª esquadra da marinha estadunidense declarou limpas as águas brasileiras e suspendeu a proteção dos navios mercantes de cabotagem. Imediatamente, a Força Naval do Nordeste retornou ao Rio de Janeiro onde foi desativada.
- (C) Houve um alinhamento automático com os EUA que teve como uma das consequências o envio de tropas brasileiras, inclusive um contingente do Corpo de Fuzileiros Navais, para lutar ao lado de tropas americanas que invadiram a Guatemala em 1954.
- (D) Os encouraçados *Minas Gerais* e *São Paulo*, adquiridos na época em que navios desse tipo constituíam as peças básicas das batalhas navais, estavam obsoletos e foram enviados para modernização nos Estados Unidos.
- (E) Entre as decisões do convênio político militar assinado com os Estados Unidos, foi estabelecido que esse país forneceria material para que o Brasil pudesse organizar uma força expedicionária e um grupo aéreo de apoio. Tudo de acordo com o *lend-lease act*.

Prova : Amarela
Profissão : QUADRO AUXILIAR DA ARMADA (CANDIDATOS ORIUNDOS DO CORPO DE PRAÇAS DA ARMADA-CPA) Concurso : AA-AFN/16

- 31) De acordo com a Estratégia Nacional de defesa, o destino do serviço militar é ser
- (A) transformado em serviço civil.
 - (B) mantido obrigatório.
 - (C) extinto.
 - (D) flexibilizado com ações de cunho social.
 - (E) incorporado pelo corpo de soldados profissionais de cada Força.
- 32) Com relação às atividades de Polícia Judiciária Militar (PJM) exercida nos termos do Código de Processo Penal Militar (CPPM), é correto afirmar que a Polícia Judiciária Militar possui competência para
- (A) representar as autoridades judiciárias federais acerca da prisão administrativa e da insanidade mental do sindicado.
 - (B) apurar os crimes militares, bem como os que, por lei especial, estão sujeitos à jurisdição militar, e sua autoria.
 - (C) cumprir os mandados de prisão expedidos por todos os órgãos da Justiça Federal e órgãos da Justiça Estadual.
 - (D) prestar aos órgãos e juizes da Justiça Federal, Militar e Estadual as informações necessárias à instrução e julgamento dos processos.
 - (E) preservar a ordem pública, como polícia judiciária exclusiva da União.
- 33) Com relação à apresentação marinheira, os navios no porto, após o expediente, serão inspecionados pelo
- (A) Cabo Auxiliar e Sargento-Polícia.
 - (B) Oficial de Serviço e Sargento-Polícia.
 - (C) Ajudante do Oficial de Serviço e Cabo Auxiliar.
 - (D) Contramestre de Quarto e Oficial de Serviço.
 - (E) Mestre, Oficial de Serviço e Contramestre de Quarto.

Prova : Amarela

Concurso : AA-AFN/16

Profissão: QUADRO AUXILIAR DA ARMADA (CANDIDATOS ORIUNDOS DO
CORPO DE PRAÇAS DA ARMADA-CPA)

- 34) Com relação à composição de um reparo de CAV, se um navio possuir mais de 24 militares, estes serão distribuídos pelas seguintes turmas:
- (A) de contenção, de ataque rápido, de primeiros socorros e de remoção de escombros.
 - (B) de contenção, de resfriamento, de bombas e de remoção de escombros.
 - (C) de contenção, de evacuação, primeiros socorros e de bombas.
 - (D) de resfriamento, de ataque rápido, de bombas e de remoção de escombros.
 - (E) de contenção, de primeiros socorros, de bombas e de remoção de escombros.
- 35) O extintor do tipo carreta de espuma mecânica tem as seguintes características:
- (A) 9 litros de capacidade e alcance médio do jato de 5 metros.
 - (B) 10 litros de capacidade e alcance médio do jato de 7,5 metros.
 - (C) 25 a 50 litros de capacidade e alcance médio do jato de 3 metros.
 - (D) 50 a 75 litros de capacidade e alcance médio do jato de 13 metros.
 - (E) 75 a 150 litros de capacidade e alcance médio do jato de 7,5 metros.
- 36) De acordo com a Ordenança Geral para o Serviço da Armada - OGSA, para que haja máxima uniformidade quanto aos procedimentos de avaliação de desempenho do pessoal, serão elaborados documentos de avaliação nos quais sejam perfeitamente delineados e definidos os principais atributos de ordem moral e profissional. São exemplos de atributos profissionais:
- (A) Lealdade, Coragem Moral e Conduta Militar.
 - (B) Conduta Pessoal, Aptidão para o Serviço e Cooperação.
 - (C) Liderança, Iniciativa e Capacidade de Decisão.
 - (D) Presença de Ânimo, Disciplina e Capacidade Profissional.
 - (E) Critério, Probidade e Cultura Geral.

Prova : Amarela
Profissão: QUADRO AUXILIAR DA ARMADA (CANDIDATOS ORIUNDOS DO CORPO DE PRAÇAS DA ARMADA-CPA)

Concurso : AA-AFN/16

37) Assinale a opção correta com relação ao Grupo de Socorro Externo (GSE).

- (A) Quando muitas unidades navais estiverem reunidas e a Força não estiver sob ameaças, se ocorrer uma situação de emergência em alguma delas, não será necessária a mobilização do socorro externo nas demais.
- (B) Na ocorrência de um sinistro com o navio atracado ao cais, não será necessário que um militar do GSE se dirija ao navio sinistrado, porém, o GSE deverá se preparar a bordo para um eventual socorro, caso seja solicitado.
- (C) Deve existir um detalhe fixo do GSE para toda a guarnição a bordo. Porém, somente no caso de incêndio, deverá estar prevista a rendição dos componentes do GSE, caso estejam de serviço no horário em que o GSE for acionado.
- (D) O GSE deve ser acionado a bordo pelo Oficial de Serviço, no porto, ou pelo Oficial de Quarto no passadiço, em viagem, ao ser constatada a situação de emergência externa.
- (E) O GSE deverá subir a bordo de um navio sinistrado sem a necessidade de o mais antigo do grupo se apresentar naquele navio para pedir permissão para tal, por se tratar de uma situação de emergência.

38) Com relação à Organização das OM de terra, qual é o ato administrativo que complementa o Regulamento, ordenando seu detalhamento e permitindo que, em âmbito interno, sejam disciplinadas todas as atividades rotineiras das OM?

- (A) Ordem interna.
- (B) Organograma de funções.
- (C) Regimento interno.
- (D) Tabela mestra.
- (E) Ato de criação.

Prova : Amarela
Profissão: QUADRO AUXILIAR DA ARMADA (CANDIDATOS ORIUNDOS DO
CORPO DE PRAÇAS DA ARMADA-CPA) Concurso : AA-AFN/16

39) Com relação à Sindicância, assinale a opção correta.

- (A) A Sindicância é procedimento administrativo investigatório sumário, que se destina a apurar ocorrências anômalas ao serviço, sobre as quais o titular da OM considere necessários maiores esclarecimentos, que não configurem, a princípio, crime militar.
- (B) A Sindicância não se confunde com o processo administrativo nem com o IPM, porém, durante a apuração dos fatos, é admitido que sejam adotadas medidas que impliquem prisão ou detenção de elementos envolvidos.
- (C) A instauração de Sindicância compete aos titulares de OM, obedecidas as normas regulamentares de competência, comando e hierarquia. Tal atribuição jamais poderá ser delegada a oficiais da ativa, nem mesmo para fins especificados e por tempo limitado.
- (D) A Sindicância é iniciada mediante "Portaria de Autuação", mencionando todos os documentos iniciais que foram entregues ao escrivão pelo encarregado, preferencialmente, dentro do prazo máximo de 48 horas após o conhecimento do fato a ser apurado.
- (E) O prazo para realização da Sindicância será de até 20 (vinte) dias, podendo ser prorrogado pela Autoridade Nomeante por razões justificadas, não devendo, preferencialmente, ultrapassar o total de 40 (quarenta) dias.

Prova : Amarela

Concurso : AA-AFN/16

Profissão: QUADRO AUXILIAR DA ARMADA (CANDIDATOS ORIUNDOS DO
CORPO DE PRAÇAS DA ARMADA-CPA)

40) Qual das opções abaixo NÃO apresenta um Objetivo Nacional de Defesa?

- (A) Intensificar a projeção do Brasil no concerto das nações e sua maior inserção em processos decisórios internacionais.
- (B) Manter Forças Armadas modernas, integradas, adestradas e balanceadas, e com crescente profissionalização, operando de forma conjunta e adequadamente desdobradas no território nacional.
- (C) Promover a integração da indústria de defesa sul-americana, adotando medidas que proporcionem desenvolvimento mútuo, bem como capacitação e autonomia tecnológicas.
- (D) Estruturar as Forças Armadas em torno de capacidades, dotando-as de pessoal e material compatíveis com os planejamentos estratégicos e operacionais.
- (E) Desenvolver o potencial de logística de defesa e de mobilização nacional.

41) De acordo com a Política Nacional de Defesa, são pressupostos básicos do Estado:

- (A) Território, povo, leis e governo próprios e independência nas relações externas.
- (B) Território, povo, Forças Armadas, leis e governo próprios.
- (C) Território, povo, leis e governo próprios e representatividade internacional.
- (D) Independência nas relações externas, órgãos de controle interno, leis e governo próprios e povo.
- (E) Território, povo, leis e governo próprios e representatividade regional.

Prova : Amarela Concurso : AA-AFN/16
Profissão: QUADRO AUXILIAR DA ARMADA (CANDIDATOS ORIUNDOS DO
CORPO DE PRAÇAS DA ARMADA-CPA)

- 42) O líder de uma determinada Organização Militar baseia sua atuação numa disciplina rígida, impondo obediência e mantendo-se afastado de relacionamentos menos formais com os seus subordinados, controla o grupo por meio de inspeções de verificação do cumprimento de normas e padrões de eficiência, exercendo pressão contínua. Sendo assim, é correto afirmar que esse líder exerce o estilo de liderança
- (A) Autocrática.
 - (B) Participativa.
 - (C) Delegativa.
 - (D) Transformacional.
 - (E) Orientada para Tarefa.
- 43) A Política Nacional de Defesa, ao descrever o ambiente internacional atual, aponta que neste século poderão ser intensificadas disputas por:
- (A) Áreas terrestres, domínio aerospacial e fontes de água doce, de alimentos e de energia.
 - (B) Influência regional, domínio aerospacial e fontes de água doce, de alimentos e de energia.
 - (C) Áreas marítimas, desenvolvimento tecnológico e fontes de água doce, de alimentos e de energia.
 - (D) Áreas marítimas, domínio aerospacial e fontes de água doce, de alimentos e de energia.
 - (E) Desenvolvimento tecnológico, formação de blocos comerciais e fontes de recursos minerais.
- 44) Segundo Beckman, as ordens escritas devem ser usadas quando
- (A) não há o controle do mau gênio.
 - (B) o trabalhador tem a compreensão vagarosa ou é "esquecido".
 - (C) a ordem precisa chegar imediatamente a um grande número de pessoas.
 - (D) envolvem cálculos e planilhas.
 - (E) o superior não tem a voz firme.

Prova : Amarela Concurso : AA-AFN/16
Profissão: QUADRO AUXILIAR DA ARMADA (CANDIDATOS ORIUNDOS DO
CORPO DE PRAÇAS DA ARMADA-CPA)

45) Com relação à agregação, analise as afirmativas a seguir

- I - Agregação é a situação na qual o militar da ativa deixa de ocupar vaga na escala hierárquica de seu Corpo ou Quadro, nele permanecendo sem número.
- II - O militar será agregado quando for afastado temporariamente do Serviço Ativo da Marinha (SAM), por ter sido julgado incapaz, temporariamente, após 1 (um) ano contínuo de tratamento.
- III- O militar será agregado quando for afastado temporariamente do Serviço Ativo da Marinha (SAM), por haver ultrapassado 6 (seis) meses contínuos de licença para tratamento de saúde própria.
- IV - O militar será agregado quando for afastado temporariamente do Serviço Ativo da Marinha (SAM), devido ter sido preso em flagrante delito por crime não afiançável.
- V - O militar será agregado quando for afastado temporariamente do Serviço Ativo da Marinha (SAM), após ter sido condenado à pena privativa de liberdade superior a 2 (dois) anos, em decisão transitada em julgado.

Assinale a opção correta.

- (A) Apenas as afirmativas III e IV são verdadeiras.
- (B) Apenas as afirmativas II, IV e V são verdadeiras.
- (C) Apenas as afirmativas I, II e IV são verdadeiras.
- (D) Apenas as afirmativas II, III e V são verdadeiras.
- (E) Apenas as afirmativas I e V são verdadeiras.

Prova : Amarela

Concurso : AA-AFN/16

Profissão: QUADRO AUXILIAR DA ARMADA (CANDIDATOS ORIUNDOS DO
CORPO DE PRAÇAS DA ARMADA-CPA)

- 46) Com relação à Ética Militar Naval, assinale a opção correta.
- (A) É um atributo que induz ao atendimento das regras de conduta, mas não se aplica ao comportamento militar naval desejado.
 - (B) Não fazem parte da Ética Militar Naval o código de honra expresso na "Rosa das Virtudes" e os dizeres do juramento à Bandeira.
 - (C) Os preceitos da Ética Militar Naval não constituem a base para o exercício da liderança naval, mas devem ser cultivados e exaltados.
 - (D) A vigilância e a observância constante dos princípios da Ética, por todos os integrantes da MB, irão incentivar o carreirismo na instituição.
 - (E) É o conjunto dos princípios, valores, costumes, tradições, normas estatutárias e regulamentos que regem o juízo de conduta do militar da Marinha.
- 47) Os pós químicos secos são substâncias constituídas de bicarbonato de sódio, bicarbonato de potássio ou cloreto de potássio, que, pulverizadas, formam uma nuvem de pó sobre o fogo, extinguindo-o por quebra da reação em cadeia e por abafamento. Estes pós deverão receber um tratamento:
- (A) antiparticularização.
 - (B) anti-hidroscópico.
 - (C) antissedimentação.
 - (D) anti-higroscópico.
 - (E) antirresfriamento.

Prova : Amarela
Profissão: QUADRO AUXILIAR DA ARMADA (CANDIDATOS ORIUNDOS DO CORPO DE PRAÇAS DA ARMADA-CPA)
Concurso : AA-AFN/16

48) Com relação à Estratégia Nacional de Defesa, analise as afirmativas a seguir:

- I - Adensar a presença de unidades do Exército, da Marinha e da Força Aérea na Região Amazônica.
- II - Organizar as Forças Armadas sob a égide do trinômio Monitoramento/controlabilidade, mobilidade e presença.
- III - Fortalecer três setores de importância estratégica: o espacial, o cibernético e o nuclear.
- IV - Rever, a partir de uma política de otimização do emprego de recursos humanos, a composição dos efetivos das três Forças, de modo a dimensioná-las para atender adequadamente ao disposto na Estratégia Nacional de Defesa.
- V - Reorganizar a indústria nacional de material de defesa, para assegurar que o atendimento das necessidades de equipamento das Forças Armadas apoie-se em tecnologias sob domínio nacional.

Assinale a opção correta.

- (A) apenas as afirmativas I e II são verdadeiras.
- (B) apenas as afirmativas I, IV e V são verdadeiras.
- (C) apenas as afirmativas II, III e IV são verdadeiras.
- (D) apenas as afirmativas III e V são verdadeiras.
- (E) apenas as afirmativas III, IV e V são verdadeiras.

49) Um SG Alfa deveria se apresentar na sua OM dia 15AGO devido ao término de período de férias, no entanto não o fez. Sendo assim, a parte de ausência deverá ser lavrada

- (A) no mesmo dia, visto que o militar já estava ausente da OM por motivo de férias.
- (B) no dia 24AGO, visto ser este o nono dia.
- (C) no dia 17AGO, após verificar se o mesmo não se encontra hospitalizado.
- (D) no dia 16AGO, um dia após ao que deveria ter se apresentado.
- (E) no dia 16AGO com data retroativa ao dia 15.

Prova : Amarela
 Profissão: QUADRO AUXILIAR DA ARMADA (CANDIDATOS ORIUNDOS DO CORPO DE PRAÇAS DA ARMADA-CPA)
 Concurso : AA-AFN/16

50) Assinale a opção que apresenta uma das principais vulnerabilidades da atual estrutura de defesa do País.

- (A) Falta de articulação do principal Instituto brasileiro de altos estudos estratégicos - a Escola de Guerra Naval - com o Governo Federal e com a sociedade no desenvolvimento e consolidação dos conhecimentos necessários ao planejamento de defesa e no assessoramento à formulação de políticas e estratégias decorrentes.
- (B) Engajamento da sociedade brasileira nos assuntos de defesa, assim como maior integração entre os diferentes setores dos três poderes do Estado brasileiro, e desses setores com os institutos nacionais de estudos estratégicos, públicos ou privados.
- (C) Adaptabilidade do brasileiro às situações novas e inusitadas, criando situação propícia a uma cultura militar pautada pelo conceito da flexibilidade.
- (D) Falta de inclusão, nos planos governamentais, de programas de aquisição de produtos de defesa em curto prazo.
- (E) Insuficiência ou pouca atratividade e divulgação dos cursos para a capacitação de civis em assuntos de defesa; e inexistência de carreira civil na área de defesa, mesmo sendo uma função de Estado.

Prova : Amarela
Profissão: QUADRO AUXILIAR DA ARMADA (CANDIDATOS ORIUNDOS DO CORPO DE PRAÇAS DA ARMADA-CPA)

Concurso : AA-AFN/16